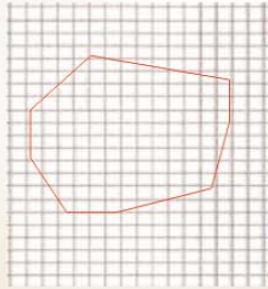


ЕТЮДИ С ФОРМУЛАТА НА ПИК

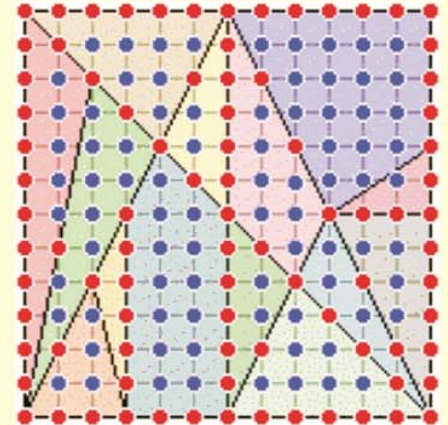
Бинарен урок

Математика

Да се изчисли колко ще струва голям парцел за ферма, ако пазарната цена е 75 евро за декар. Парцелът има неправилна форма. Начертан е на карирана хартия, като лицето на едно квадратче съответства на 1 декар.



Stomachion



Разходки на царя

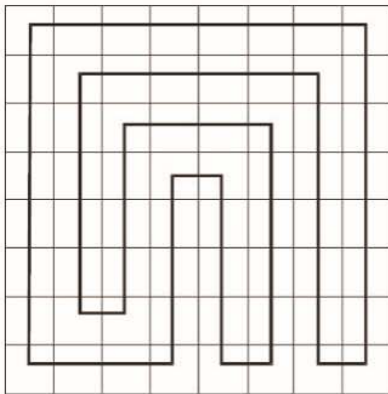


Рис. 1

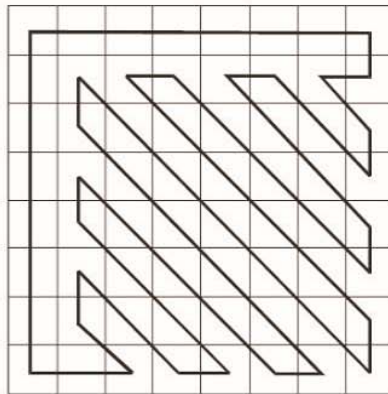

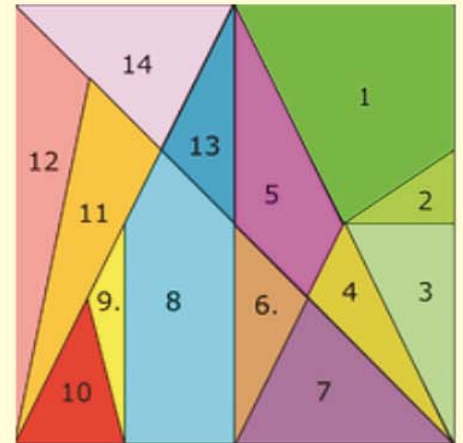


Рис. 2



ФОРМУЛАТА НА ПИК

$$S_m = v + k/2 - 1$$

